

MODULO DI STORIA

LA CIVILTÀ DEI CINESI IN EPOCA HAN

Destinatari: gruppo di studenti di scuola primaria , classe V.

Livello: intermedio.

Destinatari: gruppo di studenti di scuola secondaria 1° grado, classi I-II-III.

Livello: intermedio.

Obiettivi comunicativi: comprendere testi scritti, riordinare e riassumere informazioni, scrivere un testo.

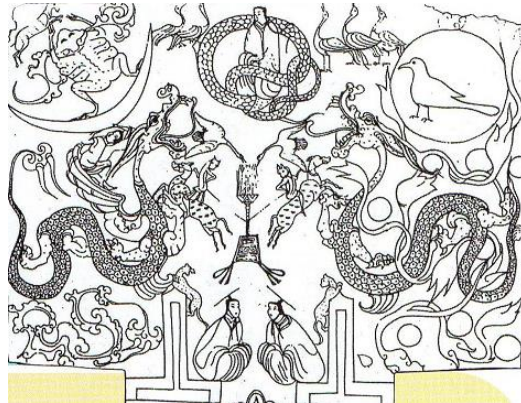
Obiettivi linguistici: vocabolario tecnico inerente alla disciplina.

Testo: brani e immagini tratti da Brioni, Coltri, Dalola, Rabitti, *Poster – in giro tra i saperi 5*, Giunti Scuola, Firenze 2012, pp.71-76.

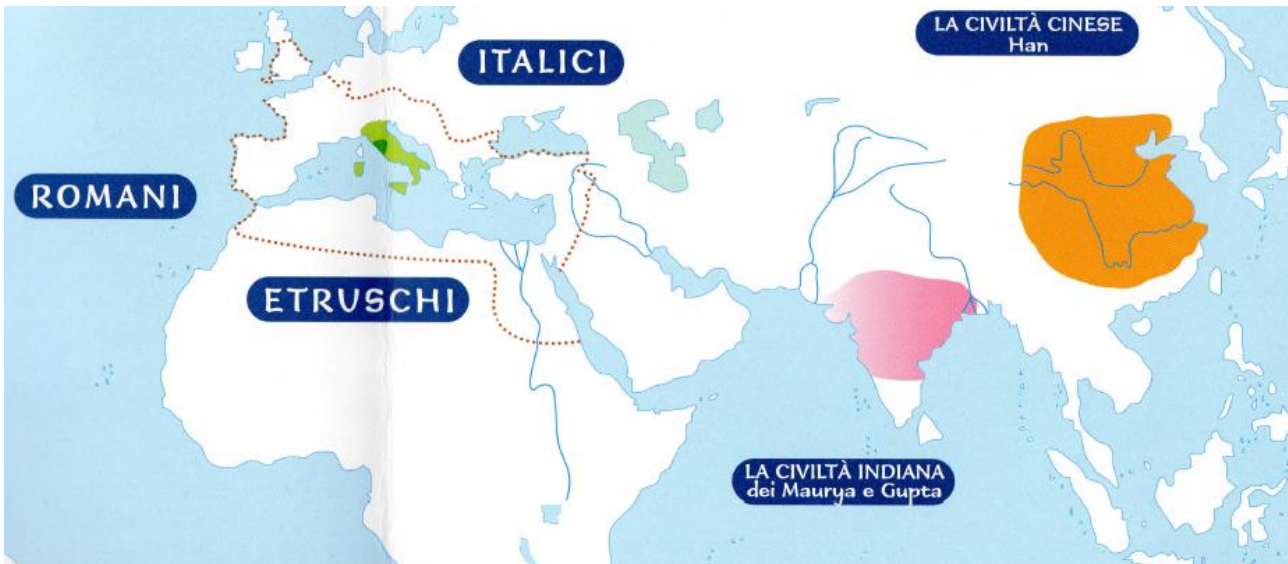
Strumenti: planisfero.

PRELETTURA

Attività di classe n.1: A cosa vi fanno pensare le immagini di seguito?



Attività di classe n.2: Provate ad indicare sul planisfero a quale popolo appartengono.



LA CIVILTÀ DEI CINESI

DAL III SECOLO A.C.
AL III SECOLO D.C.

CHI, DOVE, QUANDO

Tra il secolo III a.C. e il secolo III d.C. i Cinesi abitavano in una vasta area dell'Asia orientale, oggi denominata Cina. Si chiamavano anche "gente di Han", dal nome della dinastia di imperatori che dominò dal 206 a.C. al 220 d.C.

Erano circa 70 milioni di persone ed erano tra loro molto diversi: i Cinesi delle regioni del Nord erano più robusti, di carnagione chiara, con occhi dal taglio più accentuato; quelli del Sud erano più scuri e piccoli.

IN QUALE AMBIENTE

La Cina presenta, oggi come nell'antichità, un paesaggio molto vario, con lunghe catene montuose a nord, altopiani solcati da corsi d'acqua, aride steppe, deserti, fertili vallate formate da grandi fiumi, pianure costiere.

Il territorio è montuoso per il 70% della superficie.

I fiumi, il Fiume Giallo, il Fiume Azzurro e l'Huang, sono imponenti e lunghi migliaia di chilometri.

La Cina a oriente è bagnata dal Mare Cinese e dal Mar Giallo. Il clima della Cina varia dal freddo intenso e secco delle zone a nord al caldo umido delle regioni del Sud, dove in estate i venti periodici, i monsoni, portano piogge abbondanti.



Modellini di case in terracotta.

COME VIVEVANO

Abitazioni e fortezze

La popolazione cinese viveva in maggioranza nei villaggi di campagna, dove molte case avevano una torre di vedetta. C'erano molte cittadelle fortificate, che sorgevano lungo le vie commerciali verso l'Occidente costruite per difendere i confini dell'Impero. Esistevano importanti città: oltre alle due capitali Luoyi e Chang'an con circa 250 000 abitanti e mura lunghe 24 chilometri, gli archeologi ne hanno scoperte altre settanta. Alcune sorgevano nei territori dove ora si trovano Pechino, Canton e Hong Kong. Le case di città erano a un piano, fatte con pilastri di legno e mattoni, con il tetto di tegole d'argilla cotta e ornato con figure di animali portafortuna. Intorno alle città si estendevano vasti cimiteri e complessi religiosi.

Un'imponente muraglia di mattoni, lunga più di 6 500 chilometri, cioè quattro volte la lunghezza dell'Italia, alta circa 10 metri, difendeva la Cina dalle popolazioni nomadi della Mongolia, provenienti dalle lontane steppe del Nord. I nomadi cercavano di occupare le zone fertili lungo i grandi fiumi dell'Impero cinese. La muraglia era stata in parte costruita nel secolo precedente e gli imperatori Han la ampliarono.

ATTIVITA' 1: Completa la frase di seguito e colora sulla linea del tempo il periodo dei cinesi Han.

La dinastia Han dominò la Cina dal a.C. al d.C.



ATTIVITA' 2: indica se le affermazioni seguenti sono vere (V) o false (F) poi sottolinea nel testo le frasi dove trovi le informazioni e motiva la tua risposta.

1	In epoca Han la maggioranza della popolazione cinese viveva in villaggi di campagna.	V	F
2	Le montagne ricoprono il 40% del territorio cinese.	V	F
3	Han era una città della Cina.	V	F
4	In epoca Han la Cina aveva due capitali: Luoyi e Chang'an .	V	F
5	I cinesi delle regioni del Nord assomigliavano ai cinesi delle regioni del Sud.	V	F
6	I principali fiumi cinesi sono: il Fiume Verde, il Fiume Giallo e L'Huang.	V	F
7	Una muraglia di 6500 chilometri e alta 10 metri difendeva la Cina dai nemici.	V	F
8	Le case di città avevano tre piani.	V	F
9	Le case in città avevno una torre di vedetta.	V	F

ATTIVITA' 3: per ogni termine scegli il sinonimo giusto.

1. DINASTIA:

- Famiglia al governo di uno stato
- Civiltà
- Religione

2. IMPERATORE

- Funzionario
- Sovrano
- Nemico

3. DOMINARE:

- Perdere
- Invadere
- Governare

4. NELL'ANTICHITÀ:

- Nel passato
- Al giorno d'oggi
- Modernità

5. CITTADELLA FORTIFICATA:

- Muraglia
- Fortezza
- Chiesa

CHE COSA SAPEVANO FARE

Contadini e artigiani

Le pianure alluvionali erano fertili grazie al limo lasciato dai fiumi dopo le inondazioni. Nelle zone pianeggianti vicino ai fiumi, gli agricoltori coltivavano legumi, come la soia, e cereali, in prevalenza riso e orzo. L'orzo fermentato serviva per fare la birra. Oltre agli alberi da frutto, coltivavano la camelia, per ottenere le foglie con cui fare il tè, e il cotone e la canapa, per ottenere le fibre tessili. Allevavano volatili, ovini, maiali, cani, bufali e una grande quantità di bachi.

I fabbri sapevano modellare ghisa, ferro e acciaio in fonderie che raggiungevano altissime temperature. Con queste nuove tecniche di fusione migliorarono la qualità di armi, spade e coltelli, e degli attrezzi agricoli.

Abilissimi artigiani fabbricavano preziosi gioielli con materiali diversi, altri si erano specializzati nella produzione della carta.

La carta

Gli artigiani cinesi inventarono la carta circa nel 100 d.C. Fino ad allora avevano scritto su seta, e su strisce di bambù, ma la carta era più adatta perché più leggera e meno costosa. Per fabbricare la carta mettevano a macerare la corteccia del gelso, il bambù o la canapa. Quando le fibre si erano trasformate in una poltiglia bianca, la mettevano a seccare per ottenere dei fogli. Ancora oggi la carta si fabbrica con la cellulosa degli alberi e con il riciclaggio degli stracci.

ATTIVITA' 4: Metti in ordine le fasi di produzione della seta.

Il segreto della seta

I Cinesi erano i soli a conoscere il modo di allevare il baco da seta. Nutrivano migliaia di bachi con le foglie del gelso. I bachi crescevano fino a che emettevano un filamento di seta formando intorno a sé un bozzolo.

Gli allevatori bollivano in acqua il bozzolo, finché si ammorbidiva. Potevano così svolgere i filamenti e unirli fra loro in fibre sottili. Un bozzolo produceva circa 500 metri di filo. Il filo era poi lavorato, tinto e tessuto in laboratori specializzati. Per un metro quadrato di tessuto di seta occorreva il filo di 3 500 bozzoli. Con le pezze di seta, i sarti confezionavano bellissimi abiti, spesso ricamati.

Gli abiti di seta erano riservati alle persone ricche, mentre gli abiti dei contadini erano di cotone grezzo.

Lungo la Via della seta

I Cinesi commerciavano con popoli lontani, con gli Indiani, i Giapponesi e, indirettamente, con i Romani attraverso mercanti nomadi. Scambiavano la seta, molto pregiata e apprezzata all'estero, con cavalli di razza per l'esercito e merci di lusso per i ricchi, come il vino, le stoffe di lana, l'ambra, la giada e i coralli. Sulle vie di terra i mercanti trasportavano le merci con carovane di cammelli che percorrevano un lungo cammino dall'Oriente all'Occidente, chiamato "Via della seta". Sulle vie fluviali usavano le giunche da trasporto.

	Il bozzolo di un baco produceva circa 500 metri di filo.
	I cinesi allevavano i bachi dando loro da mangiare le foglie di una pianta chiamata gelso.
	Facendo bollire il bozzolo nell'acqua, gli allevatori lo facevano diventare morbido.
	Con la seta i sarti realizzavano dei bellissimi abiti.

Il baco e il bozzolo di seta



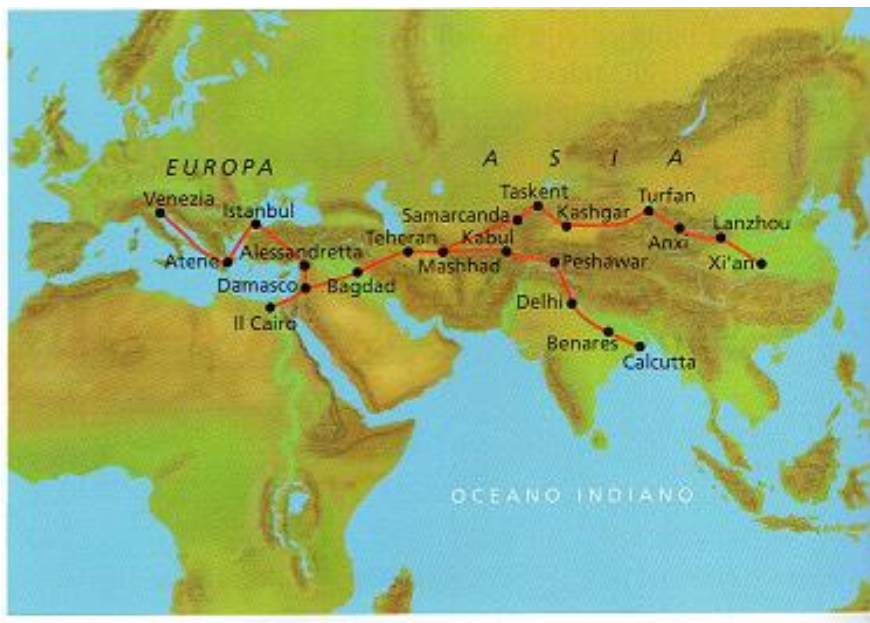
ATTIVITA' 5: Segui l'esempio e compila la tabella con le attività dei cinesi dell'epoca Han e per ogni attività indica quali erano i prodotti principali:

ATTIVITÀ	PRODOTTI
Artigianato	Armi, spade, coltelli, attrezzi agricoli, gioielli

ATTIVITA' 6: Rispondi sul quaderno alle domande di seguito e sottolinea nel testo dove trovi le informazioni.

- 1- Con quali popoli commerciavano i cinesi?
- 2- Che cosa offrivano i cinesi agli altri popoli?
- 3- Che cosa ottenevano in cambio i cinesi dagli altri commercianti?
- 4- I commercianti come trasportavano le merci sulle vie di terra?
- 5- Come si chiama il cammino che percorrevano i commercianti?
- 6- Quale mezzo di trasporto usavano lungo i fiumi?

ATTIVITA' 7: Immagina di essere un mercante cinese e racconta sul quaderno quali merci puoi scambiare, in quale città sei diretto e con quale mezzo di trasporto.



COME ERANO ORGANIZZATI

Impero e province

La Cina era un unico Impero, diviso in province. Tutti gli imperatori della dinastia Han erano chiamati "Figli del Cielo" perché erano convinti di aver ricevuto dal Cielo l'incarico di governare. Avevano il possesso esclusivo delle miniere di sale e di ferro e di vaste proprietà.


Per governare le province, si facevano aiutare dai mandarini, uomini colti e ricchi che, per diventare funzionari, dovevano superare difficili esami.

La società cinese era divisa in classi. L'imperatore e i funzionari dello Stato erano ai livelli più elevati. Guerrieri e contadini erano considerati i meno importanti.

I contadini potevano diventare schiavi dell'imperatore a causa dei debiti. Allora venivano obbligati a lavorare alla costruzione di grandi opere pubbliche, come i canali di irrigazione, i porti, le mura.

ATTIVITA' 8: Metti in ordine di importanza le classi della società cinese.

1. IMPERATORE
2.
3.
4.
5.



Una statua di Lao-tzu.

IN CHE COSA CREDEVANO

Regole di vita diverse

I Cinesi veneravano gli dei della natura e avevano paura di demoni malvagi. Essi inoltre aderivano a religioni e a regole di vita insegnate da maestri diversi. I Taoisti seguivano il modo di pensare e le regole dell'antico maestro Lao-tzu, che insegnava a vivere in armonia e in equilibrio con la natura. I Confuciani credevano in Confucio, un maestro del passato che raccomandava una vita basata sulla giustizia e sull'amore per tutto il genere umano. C'erano infine anche molti seguaci del Buddismo, giunto in Cina dall'India; i Buddisti seguivano gli insegnamenti del maestro Buddha che insegnava a raggiungere la felicità con la meditazione rinunciando ai desideri terreni.

ATTIVITA' 9: Raccogli nella tabella di seguito le principali caratteristiche delle religioni seguite dal popolo Han e sottolinea sul testo dove trovi le informazioni.

RELIGIONE	MAESTRO FONDATORE	INSEGNAMENTI

ATTIVITA' 10: Cosa hai imparato sulla civiltà dei cinesi in epoca Han?

Compila la tabella di seguito.

QUANDO HA REGNATO LA DINASTIA HAN ?	
DOVE VIVEVANO?	
IN QUALE AMBIENTE VIVEVANO?	
COME ERANO LE ABITAZIONI IN CUI VIVEVANO?	
QUALI ERANO LE PRINCIPALI ATTIVITÀ?	
COME ERA ORGANIZZATA LA SOCIETÀ?	
QUALI RELIGIONI SEGUIVANO?	